

THEMEN EINSTIEG: Bildstimulus

ab A2



© picture alliance / | Daniel Kalker

1



© picture alliance / Geisler-Fotopress /Christoph Hardt

2

1 Was seht ihr auf den Fotos? Schreibt die Sätze zu Ende.

Foto 1

A Auf dem Foto sieht man _____.

B Im Vordergrund des Fotos befindet sich _____.

C Im Hintergrund des Fotos stehen _____.

D Bei dem Bild denke ich an _____.

Foto 2

A Das Bild zeigt _____.

B In der Mitte kann man _____ sehen.

C Im Hintergrund befinden sich _____.

D Zu dem Bild habe ich folgende Assoziationen:

WORTSCHATZ & GRAMMATIK

ab A2

1 Wie viele Silben haben die Wörter? Wo liegt die Betonung?

- A *Gerichtshof* Ge-richts-hof
- B Kommission
- C Parlament
- D Rechnungshof
- E Union
- F Zentralbank

2 Wie heißen die Artikel? Schreibt die Nomen aus Aufgabe 1 in die Tabelle.

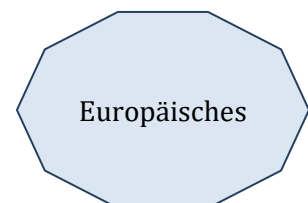
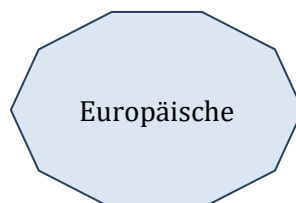
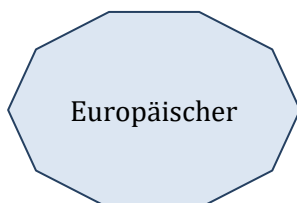
	der	die	das
A	<i>Gerichtshof</i>		
B			
C			
D			
E			
F			

3 Welche Nomen aus Aufgaben 1 und 2 passen zu welchem Adjektiv? Verbindet.

Kommission

Parlament

Gerichtshof



Rechnungshof

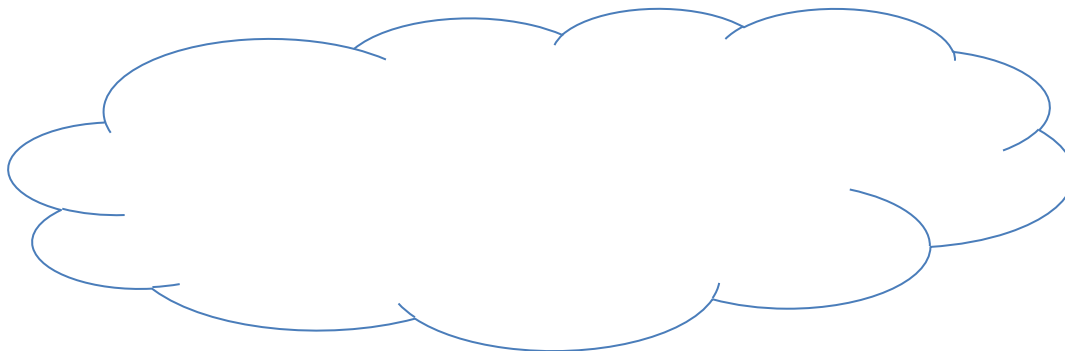
Union

Zentralbank

GRAFIK – „Die EU auf einen Blick“

ab A2

1 Seht euch die Grafik an. Findet die zehn Verben und schreibt die Infinitive.



2 Seht euch die Verben aus Aufgabe 1 noch einmal an. Sortiert sie in die Tabelle.

normale Verben	trennbare Verben	Verben mit Präposition

3 Wo liegt die Betonung bei den Verben aus Aufgaben 1 und 2? Schreibt, sprecht und klatscht.

A *vorgeben*

vor-geben

B _____

G _____

C _____

H _____

D _____

I _____

E _____

J _____

F _____

TEXTVERSTÄNDNIS – „Europäisches Parlament“

ab B1

1 Lest den Text. Welche Aussagen sind richtig? Kreuzt an.

Aussage	nicht im Text	im Text
A Die Wahl des EU-Parlaments heißt Europawahl.		
B Die Abgeordneten des EU-Parlaments werden von EU-Bürger*innen direkt gewählt.		
C Bei Europawahlen sind manche Stimmen wichtiger als andere Stimmen.		
D Bei Europawahlen dürfen Wähler*innen selbst entscheiden, wem sie ihre Stimme geben wollen.		
E Das Europäische Parlament beobachtet genau, wer wen wählt.		
F Die nächste Europawahl wird im Juli 2024 stattfinden.		
G Das Wahlalter ist nicht in allen EU-Mitgliedsstaaten gleich.		
H Die Zahl der Abgeordneten im Europäischen Parlament soll ab 2024 reduziert werden.		

TEXTE & GRAFIK

ab A2

1 Seht euch alle Kalendertexte und die Grafik für Februar an. Welche Antwort ist richtig? Kreuzt an.

A Wie viele Mitgliedsstaaten hat die Europäische Union im Moment?

- siebenzwanzig
- siebenundsiebzig
- siebenundzwanzig

B Wie viele Mitglieder hat die Europäische Union?

- siebenundzwanzig
- sechszwanzig
- siebenzwanzig

C Wann ist die nächste Europawahl?

- zwanzigvierundzwanzig
- nächstes Jahr
- zwanzigfünfundzwanzig

D Wie oft trifft sich der Europäische Rat?

- alle vier Jahre
- viermal pro Jahr
- dreimal im Jahr

E Wo kommt der Rat der EU zusammen?

- in Brüssel oder Luxemburg
- im EU-Parlament
- in Frankfurt

F Wofür steht die Abkürzung EuGH?

- Gericht der Europäischen Union
- Europäischer Gerichtshof
- Hof des Europäischen Gerichts

G Wo ist die Europäische Zentralbank?

- in Brüssel
- in Straßburg
- in Frankfurt

H Wofür steht die Abkürzung EuRH?

- Rechnungshof der Europäischen Union
- Europäischer Rasthof
- Europäischer Rechnungshof

2 Welches EU-Organ erfüllt welche Aufgaben? Verbindet.

EU-Organe	Aufgabenbereiche
Europäischer Rat	Gesetzesvorschläge diskutieren und festlegen Arbeit der EU-Organe kontrollieren
Rat der EU	Verträge überwachen
EU-Kommission/ Europäische Kommission	Politische Prioritäten festlegen
Europäisches Parlament	Politische Entscheidungen treffen
Gerichtshof der EU	Gesetzesvorschläge erarbeiten EU-Gesetze umsetzen Einhalten des EU-Rechts sicherstellen EU-Politik entwickeln & umsetzen EU auf internationaler Ebene vertreten
Europäische Zentralbank	Ausgaben kontrollieren EU-Haushalt prüfen Finanzielle Angelegenheiten überwachen Betrug, Verschwendung & Missmanagement verhindern
Europäischer Rechnungshof	für Stabilität des Finanzsystems und der Preise sorgen

3 Seht euch die Nomen-Verb Verbindungen aus Aufgabe 2 noch einmal an. Schreibt sieben vollständige Sätze.

A *Der Europäische Rat legt politische Prioritäten fest.*

B _____

C _____

D _____

E _____

F _____

G _____

ABRUNDUNG:

ab A2

1. Seht euch die Karte an. Findet den Fehler. Welches Land ist seit 2020 kein Mitglied der EU mehr?



2 Seht euch die Karte noch einmal an. Wo befinden sich die sieben Organe der EU? Setzt Stecknadeln mit den Städte- und Ländernamen.

3 Seht euch die Karikatur an. Was seht ihr? Was könnte die Aussage der Karikatur sein? Sprecht in Paaren.



© Karsten Schley/ toonpool.com

Man sieht...

Vielleicht...

Ich verstehe die Karikatur so, dass...

4 Habt ihr Erfahrungen mit der Bürokratie der EU? Tauscht euch aus.

Ich komme (nicht) aus der EU, deshalb...

Meine Erfahrungen mit der Bürokratie der EU sind...