












Welche Gruppe ist schneller?



Ihr seht 9 Plakate. Ihr habt 10 Minuten Zeit!

Findet ihr die Antworten?

Wie viele gibt es/ seht ihr auf den Plakaten?

Armbanduhren		→ [].
Gitarren		→ [].
Brillen		→ [].
Mützen + Hüte + Kappen		→ [].
Mikrofone		→ [].
Musikerinnen		→ [].
Musiker (Männer)		→ [].
Ringe		→ [].
Schuhe		→ [].

erreichte Punktzahl: _____