


MEIN EXPERIMENT

Zeit messen



Wir messen die Zeit

- in Jahren
- in Monaten
- in Wochen
- in Tagen
- in Stunden
- in Minuten
- in Sekunden



1. Fülle die Tabelle aus.

	Monate	Wochen	Tage	Stunden	Minuten	Sekunden
Jahr	12					
Monat(e)						
Woche(n)						
Tag(e)						
Stunde(n)						
Minute(n)						

2. Sprich über deine Ergebnisse

Ein Jahr

Ein Monat

Eine Woche

Eine Stunde

Eine Minute

hat

.....Monate.

.....Stunden.

.....Wochen.

.....Minuten.

.....Tage.

.....Sekunden.

Damit wir wissen, wann jemand Geburtstag hat oder wann der Frühling beginnt, haben wir einen Kalender.



Damit wir wissen, wie spät es ist, haben wir eine Uhr.
Wir kennen zwei verschiedene Uhren:

1. analoge Uhren

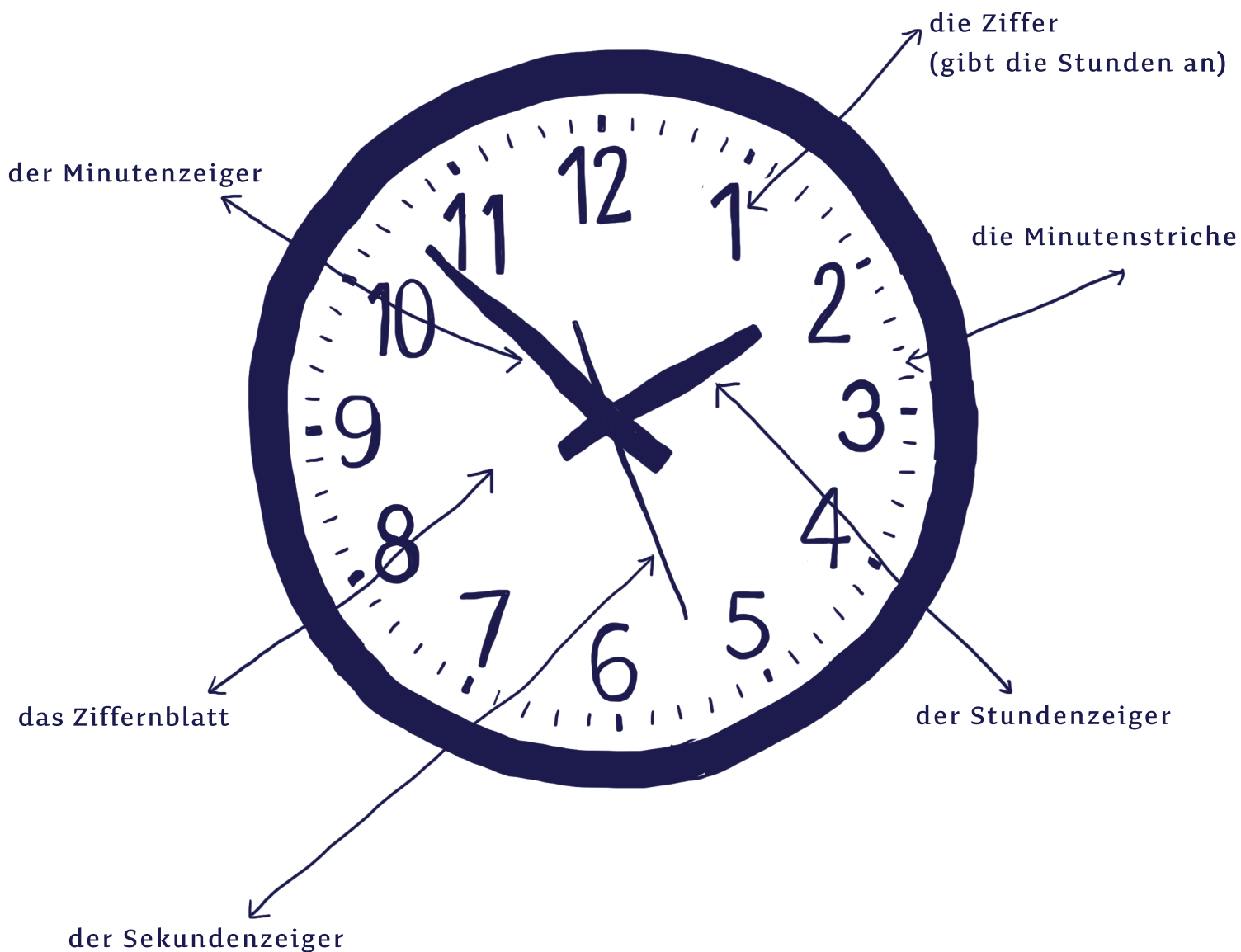


2. digitale Uhren



3. Auf dem Bild siehst du eine analoge Uhr.

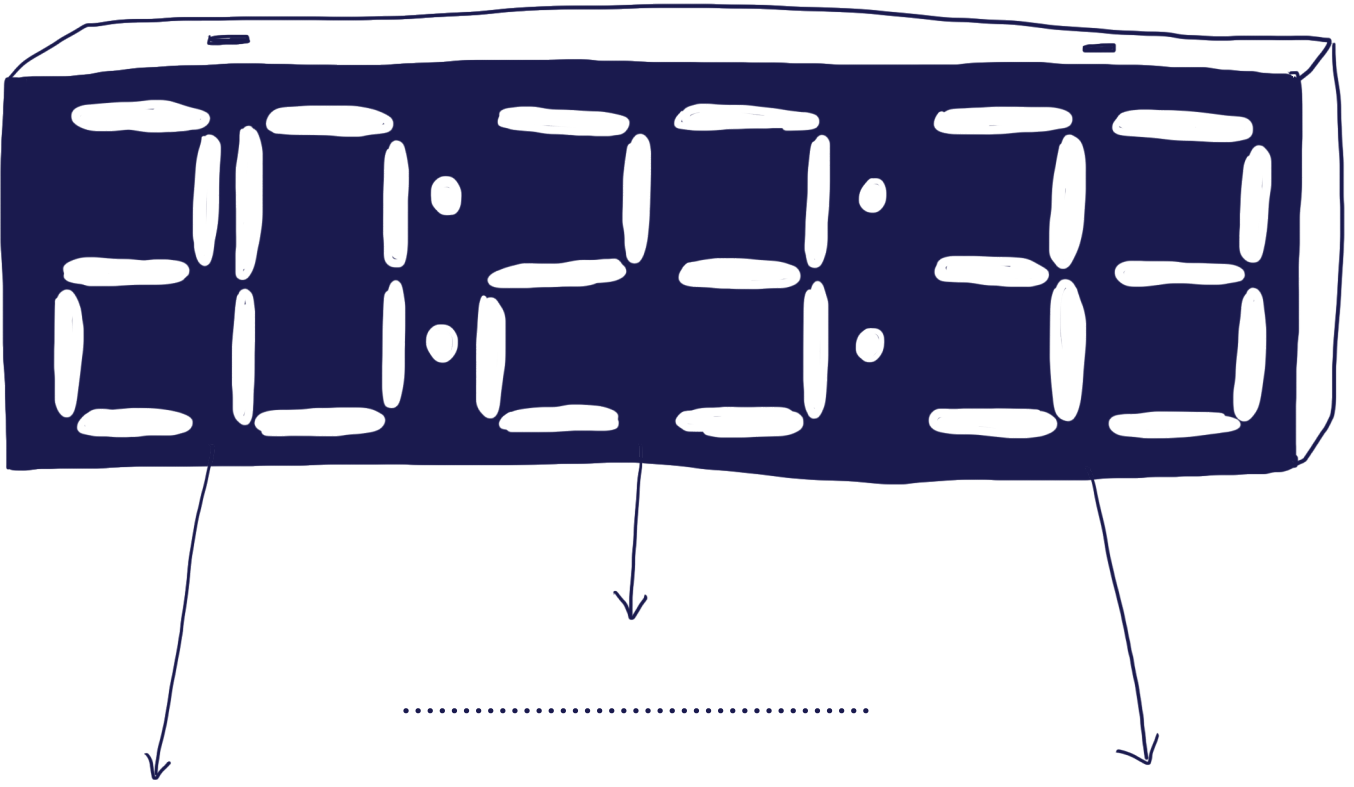
Die Teile einer analogen Uhr



4. Auf diesem Bild siehst du eine digitale Uhr. Ergänze.



Die Teile einer digitalen Uhr



.....

.....

der Minutenzeiger der Sekundenzeiger der Stundenzeiger

4. Auf diesem Bild siehst du eine digitale Uhr.

Die Teile einer digitalen Uhr

